

## CALCUL MENTAL

Additionner trois nombres  
dont une dizaine.Ex:  $16 + 10 + 5$ ;  $34 + 10 + 8$ ; ...

31

52

50

72

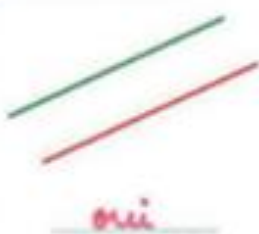
84

110


135

152


## 1 Découverte Quelles droites sont parallèles entre elles ? Lis et complète la phrase.

Si on les prolonge,  
deux droites **parallèles**  
ne se coupent jamais.Deux droites  
parallèles gardent  
le même écartement.Les droites ( *c* ) et ( *d* ) sont parallèles.2 Les droites sont-elles parallèles ?  
Écris oui ou non.

oui



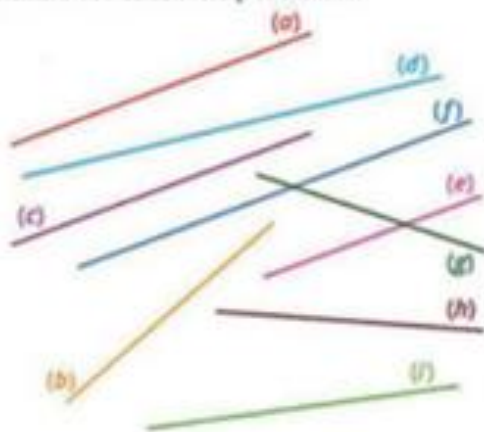
non



non



oui

3 Repère les droites parallèles à la droite (a).  
Utilise le réseau de parallèles.Les droites ( *c* ) ( *f* ) et ( *e* )  
sont parallèles à la droite (a).

## 4 Trace une droite bleue, une droite verte, une droite rouge parallèles à celles déjà tracées.

