

Classe de CE2-CM1 : CORRIGE du jeudi 8 avril 2021

Rituel : Le compte est bon (+ - x)

Faire **90** avec les nombres 75 – 1 – 7 – 2 – 5 – 50

$$75 + 1 = 76$$
$$2 \times 7 = 14$$
$$76 + 14 = 90$$

$$75 + 1 = 76$$
$$76 : 2 = 38$$
$$50 + 38 = 88$$
$$88 + 7 = 95$$
$$95 - 5 = 90$$

Si vous avez d'autres solutions, n'hésitez pas à les partager ! 😊

Orthographe :

Mots de dictée :

Verbes	Noms communs	Adjectifs	Mots invariables
apprendre arrêter vendre	Une abeille Une adresse Un doigt Une voix	pointu	

Classer les groupes nominaux suivant leur genre et leur nombre.

	masculin	féminin
singulier	le sable le grand saule le dos ton tour son bain	une vraie borne une tête l'eau froide
pluriel	ses bras tes poings fermés	tes jambes les épaules dix brassées

Lecture :

"Journal d'un chat assassin"



JOURNAL D'UN CHAT ASSASSIN

Fiche CE2 n°8

1) Lis le chapitre VII jusqu'à... je me suis retrouvé dans le noir. (page 65)

2) Entoure le mot qui pourrait remplacer celui du texte.

Tuffy? Le vétérinaire?
Ellie était encore plus terrorisée que moi. Elle s'est jetée sur son père et l'a frappé avec ses petits poings.
— Papa! Non! Tu n'as pas le droit!
Grâce à mes griffes, j'ai été plus efficace dans la bataille. Quand il a fini par me sortir de force du placard sous l'évier, il avait le pull déchiré et les mains en sang.
Il n'était pas vraiment content.

surprise effrayée rassurée

tapé menacé caressé

Les serres sont les griffes des rapaces...

pattes crocs serres
battue bagarre mitraille

en miettes en poudre en lambeaux
ensanglantées enchantées sanglées
consentant constant ravi

6) Ecris cette phrase au temps demandé.

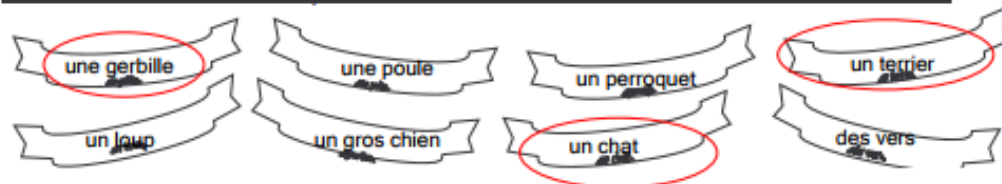
Vous ne pourriez pas tenir votre horrible chat?

Présent : *Vous ne pouvez pas tenir votre horrible chat?*

Passé composé : *Vous n'avez pas pu tenir votre horrible chat?*

Futur : *Vous ne pourrez pas tenir votre horrible chat?*

6) Colorie les animaux présents dans la salle d'attente du vétérinaire.



6) De qui s'agit-il?

Elle défend le chat.

Il plonge Tuffy dans le noir.

Elle a peur pour son chien.

Etude de la langue :

Le passé composé (voir leçons dans le cahier outils gris)

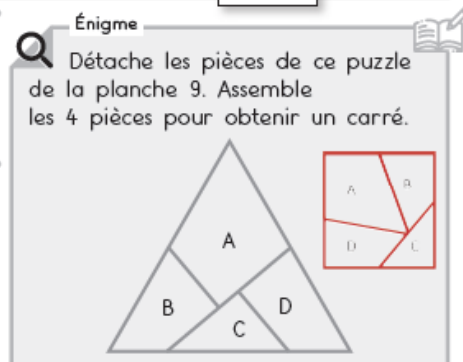
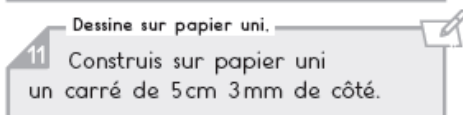
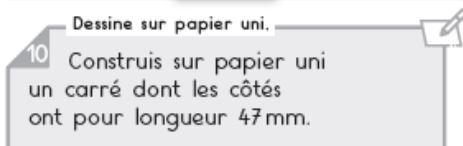
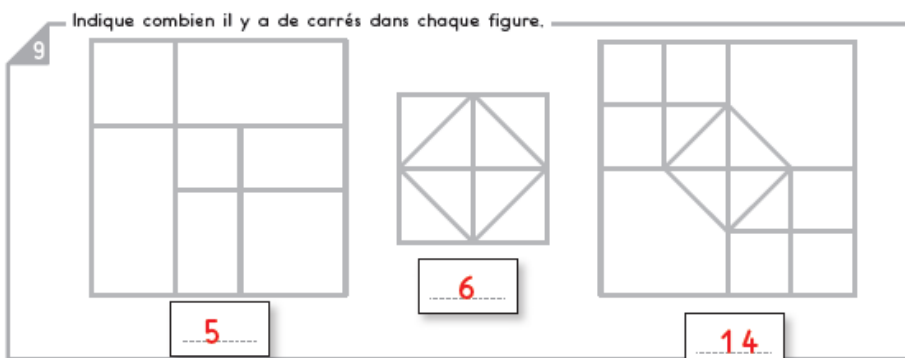

Hier, j' **'ai préparé** le repas avec mon frère et ma sœur. Nous **avons protégé** nos vêtements avec des tabliers et nous **avons coupé** les légumes. Mon frère **a bu** un verre d'eau puis il **a saisi** les ustensiles pour cuisiner les pâtes et la sauce à la tomate.

Mathématiques :

CE2

36 Construire un carré

Espace et Géométrie



Trouve le nombre qui se cache derrière chaque animal et calcule.

$$4 \times \overset{6}{\text{star}} = 24$$

$$\overset{9}{\text{bird}} \times 7 = 63$$

$$\text{star} \times \text{bird} = \underline{54}$$

CM1 :

La division posée

$$\begin{array}{r} \overline{426} \quad | \quad 2 \\ -4 \\ \hline 02 \\ -2 \\ \hline 06 \\ -6 \\ \hline 0 \end{array}$$

213

$$\begin{array}{r} \overline{821} \quad | \quad 3 \\ -6 \\ \hline 22 \\ -21 \\ \hline 21 \\ -21 \\ \hline 0 \end{array}$$

277

$$\begin{array}{r} \overline{635} \quad | \quad 5 \\ -5 \\ \hline 13 \\ -10 \\ \hline 35 \\ -35 \\ \hline 0 \end{array}$$

127